


Nombre


fecha.....

3 En cada uno de estos casos falta una moneda de céntimo.
¿Cuál es? Escribe.










Nombre

fecha.....

1 En una juguetería han cambiado los precios.


Si el robot cuesta 11 euros más, ¿cuál es su precio ahora?



$$\square \ominus \square = \square$$

► Su precio es euros.


Si la pelota cuesta 14 céntimos menos, ¿cuál es su precio ahora?



$$\square \ominus \square = \square$$

► Su precio es céntimos.


Si la toalla cuesta 10 euros más, ¿cuál es su precio ahora?



$$\square \ominus \square = \square$$

► Su precio es euros.

Si el peluche cuesta 5 euros menos, ¿cuál es su precio ahora?



$$\square \ominus \square = \square$$

► Su precio es euros.